



Международная просветительская акция  
«Географический диктант – 2019»  
Часть 1

<p>1. В своём дневнике путешественник записал: «Передо мной глубокая речная долина с очень крутыми, отвесными склонами и узким дном, которое полностью занято руслом реки». Что описал путешественник? А) Лагуну; Б) Каньон; В) Фьорд; Г) Дельту.</p>
<p>2. Какое из указанных ниже морей обязательно придётся пройти, если следовать из Средиземного моря в Азовское? А) Баренцево; Б) Каспийское; В) Чёрное; Г) Охотское.</p>
<p>3. Этот мыс – крайняя восточная материковая точка России. Здесь установлен обелиск, посвящённый русскому казаку-землепроходцу, чьим именем мыс и назван. Что это за мыс? А) Мыс Дежнёва; Б) Мыс Пояркова; В) Мыс Хабарова; Г) Мыс Челюскина.</p>
<p>4. В Ямало-Ненецком автономном округе находится «супергигантское» по величине запасов месторождение, получившее название по ближайшему населённому пункту – посёлку Уренгой. Что добывают на этом месторождении? А) Уголь; Б) Газ; В) Железную руду; Г) Нефть.</p>
<p>5. На одной из своих картин Николай Рерих изобразил высочайшую горную вершину мира. А в названии этой картины знаменитый русский художник использовал оба имени горы. Одно из них – Джомолунгма. А второе? А) Эльбрус; Б) Монблан; В) Эверест; Г) Килиманджаро.</p>
<p>6. Какая из этих рек протекает по территории России? А) Днепр; Б) Днестр; В) Дунай; Г) Дарлинг.</p>
<p>7. Территорию какого из этих субъектов Российской Федерации не пересекает Северный полярный круг? А) Республики Карелия; Б) Республики Саха (Якутия); В) Красноярского края; Г) Вологодской области.</p>
<p>8. Из малахита и яшмы, добытых в этих горах, сделаны чаши из собрания Государственного Эрмитажа и выполнена внутренняя отделка храма Спаса на Крови. А весь горный массив принято считать границей между двумя частями света. О каких горах идёт речь? А) Саяны; Б) Уральские горы; В) Кавказские горы; Г) Алтайские горы.</p>
<p>9. Что было построено во второй половине прошлого века неподалёку от города Зeya, расположенного на реке Зeya? А) Автомобильный завод; Б) Химический комбинат; В) Самый протяжённый тоннель; Г) Гидроэлектростанция.</p>
<p>10. Какой город из перечисленных ниже не является морским портом? А) Владивосток; Б) Курган; В) Дудинка; Г) Новороссийск.</p>

Часть 2

<p>1. Этот остров омывается двумя морями – Охотским и Японским. В 1954 году Эльдар Рязанов и Василий Катанян сняли документальный фильм об истории, природе и жителях острова. Что это за остров? А) Вайгач; Б) Сахалин; В) Итуруп; Г) Большевик.</p>
<p>2. Какое из перечисленных озёр наиболее удалено от экватора? А) Байкал; Б) Таймыр; В) Ханка; Г) Онежское.</p>
<p>3. Как называется стихотворение русского поэта Ивана Сурикова, где есть и такие строки: <i>Промелькнут перед глазами Две-три старых ивы – И опять в траве волнами Ветра переливы.</i> А) «Тайга»; Б) «Степь»; В) «Тундра»; Г) «Пустыня».</p>

<p><b>4.</b> Какой из перечисленных комплексов месторождений является крупнейшим железорудным бассейном в России?  А) Кузнецкий бассейн; Б) Западно-Сибирский бассейн; В) Лабрадора железорудный пояс; Г) Курская магнитная аномалия.</p>
<p><b>5.</b> Какая языковая семья является самой многочисленной в России?  А) Афразийская; Б) Индоевропейская; В) Северокавказская; Г) Уральско-Юкагирская.</p>
<p><b>6.</b> Перед вами карта маршрута экспедиции 1891 года этого географа, члена Русского географического общества, исследователя Сибири. Чей маршрут указан на карте? (см. рис.1)  А) Семёна Дежнёва; Б) Геннадия Невельского; В) Владимира Обручева; Г) Ивана Черского.</p>
<p><b>7.</b> С каким географическим объектом можно составить словосочетание с прилагательным «байрачный»?  А) Лес; Б) Водопад; В) Вулкан; Г) Горный склон.</p>
<p><b>8.</b> Мраморная плита с древнерусской надписью, найденная на Таманском полуострове в 1792 году, получила название «Тмутараканский камень». На нём указано, что князь Глеб Святославович «мерил море по леду от Тмутороканя до Корчева». А где проводили замеры по указу князя?  А) На противоположных берегах Волги; Б) На Чудском озере; В) В Керченском проливе; Г) На Аральском море.</p>
<p><b>9.</b> Русское название жилища, традиционного для одного из перечисленных ниже народов, – сакля. Выберите из списка этот народ.  А) Аварцы; Б) Марийцы; В) Тувинцы; Г) Эвенки.</p>
<p><b>10.</b> Отец был начальником Главного гидрографического управления. На архипелаге Новая Земля в честь него названы мыс, ледник, гора и залив. Сын тоже стал знаменитым гидрографом. Он – первооткрыватель Северной Земли. Отец и сын были членами Русского географического общества. Выберите из списка правильную фамилию отца и сына.  А) Прончищевы; Б) Челюскины; В) Вилькицкие; Г) Шелиховы.</p>
<p><b>11.</b> В верховьях реки Кудепсты на территории Сочинского национального парка расположена система пещер, знаменитая своими сталактитами. Например, сталактит Ракета имеет длину более шести метров. Как называется данная система пещер, в которой можно увидеть это чудо природы?  А) Кунгурская; Б) Ботовская; В) Воронцовская; Г) Капова.</p>
<p><b>12.</b> Калан – это хищное морское млекопитающее семейства куньих. Обитает на берегах Тихого океана в России, а также в Японии. Калана иногда называют морской выдрой, а ещё – бобром, добавляя название полуострова. Выберите из перечисленных ниже названий правильное.  А) Таймырский бобр; Б) Ямальский бобр; В) Камчатский бобр; Г) Ангарский бобр.</p>
<p><b>13.</b> Перед вами список субъектов Российской Федерации: 1) Ямало-Ненецкий; 2) Чукотский; 3) Ненецкий; 4) Ставропольский; 5) Забайкальский; 6) Пермский; 7) Приморский; 8) Ханты-Мансийский. В каком из указанных ниже вариантов перечислены все автономные округа из списка.  А) 1,2,3,6; Б) 2,5,6,7; В) 4,5,7,8; Г) 1,2,3,8.</p>
<p><b>14.</b> Если подняться над этим городом, можно увидеть морское побережье и большое количество недавно построенных спортивных объектов. Что это за город? (см. рис.2)  А) Новороссийск; Б) Екатеринбург; В) Мурманск; Г) Сочи.</p>
<p><b>15.</b> На территории этого заповедника находятся такие объекты, как Перья, Дед, Баба, Внук... Как называется этот заповедник?  А) «Тумбы»; Б) «Столбы»; В) «Камни»; Г) «Развалины».</p>
<p><b>16.</b> Чем прославились приятели ещё по Морскому кадетскому корпусу Иван Крузенштерн и Юрий Лисянский?  А) Совершили первое кругосветное плавание россиян;  Б) Прошли Северным морским путём;  В) Основали Русскую Америку;  Г) Обнаружили пролив между Северным Ледовитым и Тихим океанами.</p>
<p><b>17.</b> <i>Наверх, вы, товарищи, все по местам! // Последний парад наступает... // Врагу не сдаётся наш гордый «Варяг», // Пощады никто не желает.</i> В каком море приняли последний бой легендарный крейсер и канонерка «Кореец»?  А) Белое; Б) Красное; В) Чёрное; Г) Жёлтое.</p>

**18.** Цвета герба обозначают полярные ночь и день, а также богатство морей, в которых промышляют рыбаки. Силуэт рыбы символизирует основную отрасль промышленности, золотые глаза и жабры – силу живой природы. Силуэт транспортного судна говорит о том, что это крупный морской порт. А развевающийся усечённый вымпел символизирует полярное сияние и подчёркивает географическое положение города за полярным кругом. Чей это герб?

А) Таганрога; Б) Мурманска; В) Калининграда; Г) Находки.

**19.** В какой хронологической последовательности совершены эти путешествия?  
1) Семёна Дежнёва на Чукотку; 2) Хождение Афанасия Никитина за три моря;  
3) Владимира Русанова на Новую Землю; 4) Центральноазиатские экспедиции Николая Пржевальского в Тянь-Шань.

А) 1-3-4-2; Б) 2-4-1-3; В) 2-1-4-3; Г) 2-1-3-4.

**20.** Перед вами четыре условных обозначения, принятых на топографических картах (см. рис.3). Найдите тот объект, который стал жертвой вооружённого нападения в знаменитом романе «Дон Кихот».

**21.** Какой населённый пункт, по одной из версий, обязан своим названием большим залежам мела?  
А) Белгород; Б) Камень-на-Оби; В) Большой Камень; Г) Старое Мелково.

**22.** Этот город, расположенный за Северным полярным кругом, обладает уникальным комплексом промышленных предприятий с полным циклом производства металлов. В частности, на него приходится более трети мирового производства палладия. Выберите из списка этот город.

А) Апатиты; Б) Норильск; В) Москва; Г) Миасс.

**23.** Леса и тундра, реки и озёра, скалистые арктические острова, монастыри, национальные парки... Центр региона долгое время был главным международным портом России. О каком регионе России идёт речь?

А) Архангельская область;                      Б) Воронежская область;                      В) Ленинградская область;  
Г) Республика Тыва.

**24.** На карте буквами А, Б, В, Г обозначены четыре тихоокеанских порта России. Какой буквой обозначен Магадан? (см. рис.4)

**25.** Ульяновское отделение Общества совместно с Молодёжным клубом РГО ежегодно проводит географический фестиваль, названный в честь книги Ивана Александровича Гончарова – писателя, родившегося в Симбирске, как в то время именовался Ульяновск. Какое название носит фестиваль?  
А) «Обломов»; Б) «Обрыв»; В) «Обыкновенная история»; Г) «Фрегат «Паллада».

**26.** В нынешнем году исполняется 125 лет со дня рождения известного писателя-натуралиста, члена Русского географического общества. Среди его произведений – «Первая охота», «Синичкин календарь», «Мышонок Пик»... Кто это?

А) Виталий Бианки; Б) Леонид Сабанеев; В) Николай Сладков; Г) Владимир Солоухин.

**27.** В 2018 году состоялся очередной фотоконкурс Русского географического общества «Самая красивая страна». На фотографии Андрея Подкорытова «Дулук», вошедшей в число победителей, запечатлён снежный баран, живущий на плато Путорана. В каком регионе России находится это плато? (см. рис.5)

А) Краснодарский край; Б) Красноярский край; В) Пермский край; Г) Ставропольский край.

**28.** В 2019 году исполняется 200 лет с момента начала Первой русской антарктической экспедиции под руководством Фаддея Беллинсгаузена и Михаила Лазарева. На пути из Антарктиды исследователи посетили остров в Океании, где были приняты королём Помаре II, а художник экспедиции Михайлов изобразил завтрак у короля. Выберите из списка этот остров.

А) Мадагаскар; Б) Таити; В) Куба; Г) Гренландия.

**29.** Какая река служит основным источником водопользования для Нововоронежской АЭС?

А) Волга; Б) Днепр; В) Дон; Г) Северная Двина.

**30.** В 1941 году, в первые месяцы войны, Константин Симонов был военным корреспондентом на западных рубежах Советского Союза. Одно из своих самых известных стихотворений, обращённых к коллеге по поэтическому цеху Алексею Суркову, он посвятил дорогам этой области. Выберите её из списка.

А) Курганская область; Б) Саратовская область; В) Смоленская область; Г) Челябинская область.

Иллюстрации:



Рисунок 1




Рисунок 2

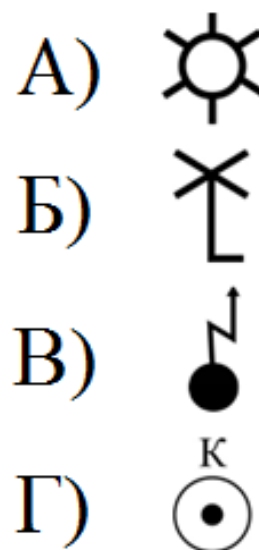


Рисунок 3

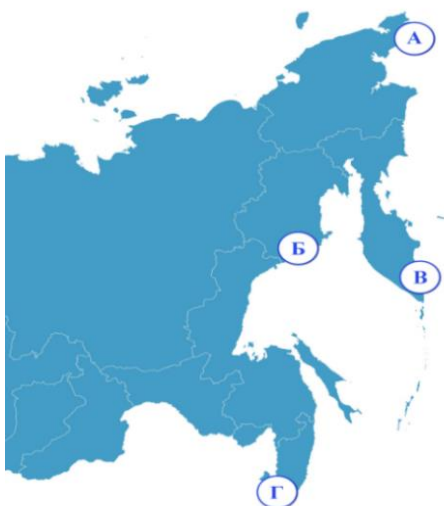


Рисунок 4



Рисунок 5